



GIMNASIO REAL

HACIA LA EXCELENCIA EDUCATIVA

Docente	Janed Chamorro Solís	Semana: Del 16 al 20 de Marzo	
Asignatura	Matemáticas	TALLER No. 1	
Grado: Tercero	Periodo:1	Tema: Estadística y Probabilidad	

TALLER

PARA EL DIA 18 DE MARZO se realizará la siguiente actividad

1. Realizo las siguientes sumas.

$$\begin{array}{r} 382 \\ + 524 \\ \hline \end{array} \qquad \begin{array}{r} 728 \\ + 391 \\ \hline \end{array} \qquad \begin{array}{r} 920 \\ + 419 \\ \hline \end{array}$$

2. Realizo las siguientes restas.

$$\begin{array}{r} 931 \\ - 229 \\ \hline \end{array} \qquad \begin{array}{r} 452 \\ - 728 \\ \hline \end{array} \qquad \begin{array}{r} 620 \\ - 480 \\ \hline \end{array}$$

3. Observo la imagen y escribo debajo de cada una, si la situación es segura, posible o imposible.

Aprende.

Ramón quiere colorear su dibujo con color verde.



Es **seguro** que Ramón coloreará su dibujo con verde.



Es **imposible** que Ramón coloree su dibujo con verde.



Es **posible** que Ramón coloree su dibujo con verde.






GIMNASIO REAL

HACIA LA EXCELENCIA EDUCATIVA

PARA EL DIA 20 DE MARZO se realizara la siguiente actividad.

4. En la siguiente tabla se registró la información

Sabores	
Arequipe	
Chocolate	
Vainilla	
Ron con pasas	

Cada triangulo como este  representa 3 estudiantes.

- Según los datos de la tabla, el sabor que prefiere la mayoría de estudiantes es.
 - a) Chocolate
 - b) Arequipe
 - c) Vainilla
 - d) Ron con pasas
- Según la información dada en la tabla.

¿Cuántos estudiantes en total respondieron la encuesta?

- a) 9 estudiantes
- b) 12 estudiantes
- c) 36 estudiantes
- d) 48 estudiantes



GIMNASIO REAL

HACIA LA EXCELENCIA EDUCATIVA

PARA EL DIA 25 DE MARZO se realizara la siguiente actividad.

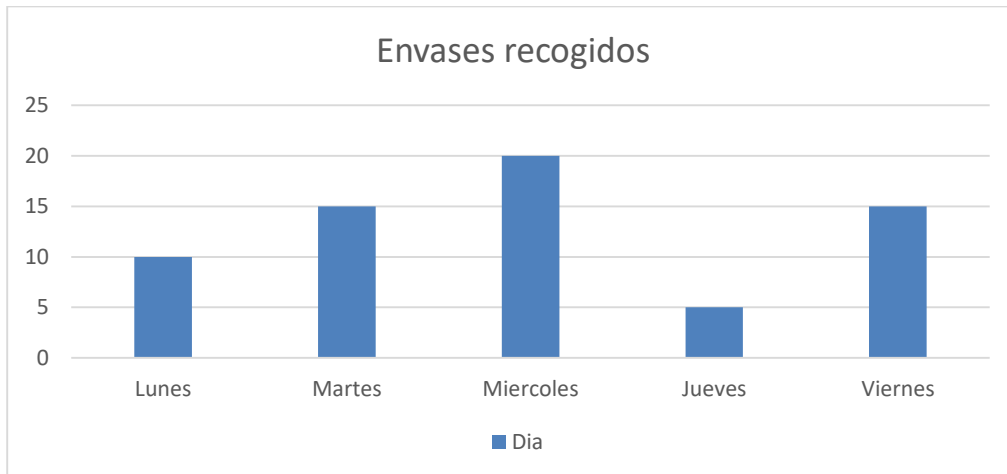
5) Multiplico

$\begin{array}{r} 38 \\ \times 2 \\ \hline \end{array}$	$\begin{array}{r} 57 \\ \times 3 \\ \hline \end{array}$	$\begin{array}{r} 45 \\ \times 4 \\ \hline \end{array}$
$\begin{array}{r} 14 \\ \times 5 \\ \hline \end{array}$	$\begin{array}{r} 62 \\ \times 6 \\ \hline \end{array}$	$\begin{array}{r} 78 \\ \times 7 \\ \hline \end{array}$

PARA EL DIA 27 DE MARZO se realizara la siguiente actividad

5) Los niños de grado tercero durante la semana recogieron envases de jugos reciclables.

La información la registraron en la siguiente grafica de barra.





GIMNASIO REAL

HACIA LA EXCELENCIA EDUCATIVA

- El día en que se recogió la MENOR cantidad de envases fue
 - a) Lunes
 - b) Miércoles
 - c) Jueves
 - d) Viernes
 - e) Martes
- ¿Cuál fue el día que más cantidad de envases se recolectó?
- ¿Cuántos envases se recogieron en total?
- Con la anterior información realiza una tabla de conteo.