



# GIMNASIO REAL

## HACIA LA EXCELENCIA EDUCATIVA

Docente	KIARA PERDOMO LOPEZ 2020	Semana: 18 AL 20 DE MARZO
Asignatura	MATEMATICAS	TALLER No 1
Grado: SEGUNDO	Periodo:1	Tema: DIAGRAMA DE BARRAS



### TALLER MATEMATICAS

Nota: Querida Familia, este taller corresponde a las clases de las fechas 18 de marzo 2020, 19 de marzo de 2020, y 20 de marzo 2020.



### TITULO: EJERCICIOS DE PRACTICA DIAGRAMA DE BARRAS

FECHA: **18** DE MARZO 2020

#### EJERCICIO1.

En la finca  de Don José todos están felices porque encontraron unos conejos  que nacieron la noche anterior. Lo mas interesante es que son de diferentes colores, así: 10 son de color **CAFÉ**, 3 **AMARILLOS**, 8 **BLANCOS**, 2 **NEGROS** Y 5 **DORADOS**. Ubica en un diagrama de barras en tu cuaderno la anterior información.

#### EJERCICIO 2.

En el grado de tercero la mama de Matías  , llevo unas pelotas  para vender a los compañeros: Liliana compró 6 PELOTAS, Isabel compro 8 PELOTAS, Liz compro 1 PELOTAS, ariana compró 7 PELOTAS. Ubica en un diagrama de barras en tu cuaderno la anterior información.

#### EJERCICIO 3.

Con el apoyo de tus padres lee la pagina 119 del libro y analízala y finalmente responde las preguntas que se encuentran allí.

FECHA: 19 DE MARZO 2020

### ACTIVIDAD

1. Con el acompañamiento de tus padres resuelve los ejercicios de PRACTICA de la página 120 y 121.  
Las preguntas que requieran de tu respuesta, consígnalas en tu cuaderno de matemáticas.
2. En la actividad dos que está a continuación, realizaremos unos ejercicios para seguir practicando el tema diagrama de barras.

Esta hoja deben realizarla y pegarla en el cuaderno de matemáticas con la fecha 19/03/2020.




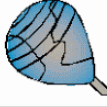



















# GIMNASIO REAL


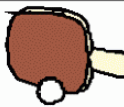




HACIA LA EXCELENCIA EDUCATIVA

## Seguimos practicando

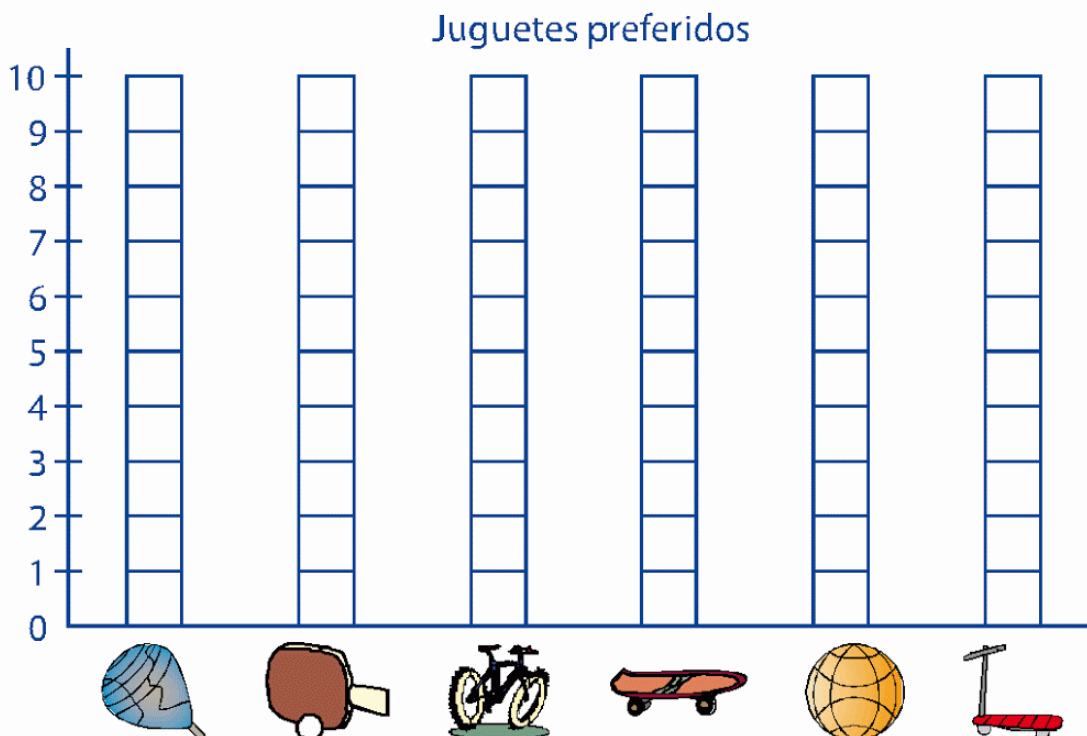
¿Cuáles son nuestros juguetes favoritos?

1. Cuenta los juguetes preferidos por los niños de 2 grado y completa el cuadro.

Juguete						
Conteo de palotes						
En números						

2. Ahora, en la gráfica, **colorea** un cuadradito por cada juguete que contaste.





# GIMNASIO REAL

HACIA LA EXCELENCIA EDUCATIVA







FECHA 20 DE marzo de 2020

TEMA TITULO: **LOS PICTOGRAMAS**

Un pictograma es una gráfica que representar los datos por medio de dibujos. Cada dibujo representa más (2) de 1 datos.

**EJEMPLO:** Jorge, el hijo de Don Esteban, pensó en representar de otra manera, la cantidad de animales que tienen en la finca, cada carita representa 2 animales.

ANIMALES	NUMERO DE ANIMALES
OVEJA	6
GALLINAS	12
CERDOS	4
CONEJOS	8
POLLITOS	10
PERROS	4
CABALLOS	2
<b>TOTAL</b>	46

ANIMAL	CANTIDAD
<b>OVEJAS</b>	
<b>GALLINAS</b>	
<b>CERDOS</b>	
<b>POLLITOS</b>	
<b>PERROS</b>	
<b>CABALLOS</b>	

Recuerda escribir esto en tu cuaderno.