




GIMNASIO REAL

HACIA LA EXCELENCIA EDUCATIVA

Docente	KIARA PERDOMO LOPEZ	FECHAS: JUNIO 1- 5 - 2020
Asignatura	MATEMATICAS	TALLER No 6
Grado: SEGUNDO	Periodo:2	Tema: EJERCICIOS DE RESTAS

PRACTICA:




1

$$\begin{array}{r} 794 \\ - 405 \\ \hline \end{array}$$

2

$$\begin{array}{r} 966 \\ - 507 \\ \hline \end{array}$$

3

$$\begin{array}{r} 633 \\ - 206 \\ \hline \end{array}$$


4.

$$\begin{array}{r} 8499 \\ - 2609 \\ \hline \end{array}$$

5.

$$\begin{array}{r} 8396 \\ - 2504 \\ \hline \end{array}$$

6

$$\begin{array}{r} 8602 \\ - 3206 \\ \hline \end{array}$$

7

$$\begin{array}{r} 955 \\ - 303 \\ \hline \end{array}$$

8.

$$\begin{array}{r} 906 \\ - 209 \\ \hline \end{array}$$

9

$$\begin{array}{r} 731 \\ - 309 \\ \hline \end{array}$$

10

$$\begin{array}{r} 9831 \\ - 5044 \\ \hline \end{array}$$

11

$$\begin{array}{r} 8136 \\ - 4208 \\ \hline \end{array}$$

12

$$\begin{array}{r} 6362 \\ - 3508 \\ \hline \end{array}$$

13

$$\begin{array}{r} 893 \\ - 409 \\ \hline \end{array}$$

14

$$\begin{array}{r} 950 \\ - 204 \\ \hline \end{array}$$

15

$$\begin{array}{r} 731 \\ - 208 \\ \hline \end{array}$$



GIMNASIO REAL

HACIA LA EXCELENCIA EDUCATIVA




Docente	KIARA PERDOMO LOPEZ	FEHAS: JUNIO 1- 5 - 2020
Asignatura	MATEMATICAS	TALLER No 7
Grado: SEGUNDO	Periodo:2	Tema: NUMEROS PARES E IMPARES

1. Números pares e impares



- Los números, con los que se pueden formar parejas, son números pares. Los números pares terminan en 0; 2; 4; 6 u 8.
- Los números, con los que no se pueden formar parejas pues sobra un elemento, son números impares. Los números impares terminan en 1; 3; 5; 7 o 9.

ACTIVIDAD:

1 ¡Conoce a los animales! Escribe dentro del recuadro P si es número par o I si es número impar



2



3. Pinta según el número sea par o impar.

a) 7 es un número

PAR

IMPAR

c) 5 es un número

PAR

IMPAR

b) 4 es un número

PAR

IMPAR

d) 8 es un número

PAR

IMPAR