



# GIMNASIO REAL


HACIA LA EXCELENCIA EDUCATIVA




Docente	Luz Mary Castilla Fernández	Semana: del 17 y 18 de marzo	
Asignatura	Matemáticas	TALLER 1	
Grado: Primero 2020	Periodo: 1	Tema: Orden de # la Decena, Sumas y Restas	

1. Colorea la cantidad que representa a cada número (Dibuja o recorta y pega en el cuaderno).

a- El número anterior a 6 es.



b- El número siguiente a 7 es



2. Escribe para cada caso un número que cumpla la o las condiciones dadas.

- a- Un número menor que 9: -----
- b- Un número mayor que 5: -----
- c- Un número menor que 2: -----
- d- Un número mayor que 6 y menor que 9 -----
- e- Dos números menores que 5 y mayores que 1 ----- y -----
- f- El número que está después de 9 es -----
- g- Desarrollo actividades del texto guía pág. 14- 15.

3. Consigna en el cuaderno el concepto de decena. Números del 10 al 19


### La decena. Números del 10 al 19

La decena es un grupo de 10 unidades. 10 unidades es igual a 1 decena. Ejemplo



# GIMNASIO REAL

HACIA LA EXCELENCIA EDUCATIVA



Si a una decena le agregamos una unidad más, obtenemos el siguiente número.

$10 + 1 = 11$ , que es once..

$10 + 2 = 12$ , que es doce.

Sigue construyendo otros números hasta el 19

4. Recorta y pega consonantes mayúsculas y forma un conjunto de una decena

5. Lee y desarrolla pág. texto 27

6. Ordena los números comenzando por el mayor.

a) 12, 17, 1, 19,14: ----- c) 5, 7, 1, 16, 3,0: -----

b) 3, 13, 18, 7,9: ----- d) 11, 19, 18, 2, 4: -----

7) **Tema La adición.** Consignar en el cuaderno.

Es añadir dos o más cantidades para obtener una cantidad total, los términos son: **sumandos y suma**, se simboliza.  $4 + 3 = 7$ . La adición la podemos representar en una recta numérica, con figuras, barras.....



8) Desarrollo actividades texto pág. 50 Decenas y sumas.